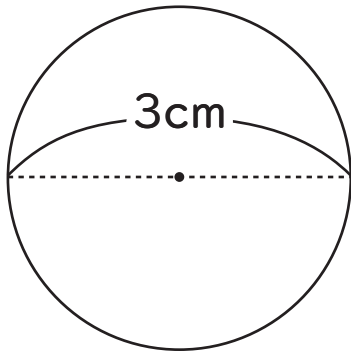


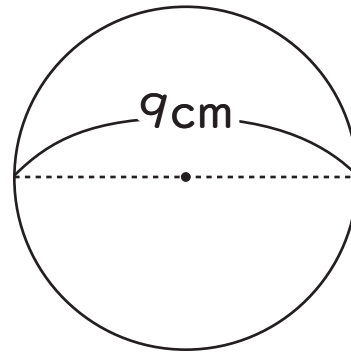
● 次の円の円周の長さを求めましょう。

1



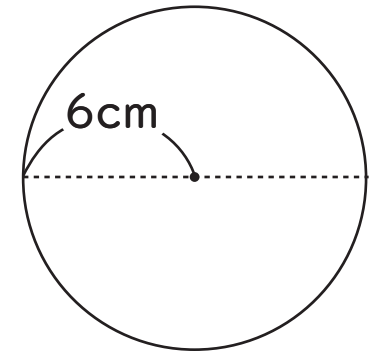
( )

2



( )

3



( )

4 直径 12cm の円

( )

5 半径 3cm の円

( )

6 半径 8cm の円

( )